

受験番号

平成 29 年度  
早稲田摂陵高等学校入学試験問題  
(2月10日実施 本校会場)

# 社 会

## 注 意 事 項

1. 試験開始の合図があるまで、問題冊子を開いてはいけません。
2. この問題冊子は 14 ページまであります。
3. 解答はすべて所定の解答用紙に記入してください。
4. 解答用紙は問題冊子の中にはさんであります。
5. 質問があるときは、静かに手をあげてください。
6. 問題冊子にも受験番号を記入し、試験が終わったら提出してください。

1 次の地図を見て、あとの各問いに答えなさい。



問(1) A国の首都は、海拔約2,300mの高原上にあり、人口880万人(市域人口)をこえる大都市である。その名称を答えなさい。

問(2) アメリカ合衆国では、A国などの中部アメリカや南アメリカからのスペイン語を話す移民が増加しているが、このような移民を何というか、答えなさい。

問(3) B国では、2016年6月に行われた国民投票により、ある組織からの離脱が選択された。その組織について述べた文として正しいものを、下の(ア)～(エ)の中から1つ選び、記号で答えなさい。

(ア) この組織に加盟している国々はすべて、共通通貨を導入している。

(イ) この組織に加盟している国々の国内総生産(GDP)の合計は、アメリカ合衆国の国内総生産(GDP)より小さい(2014年現在)。

(ウ) この組織に加盟している国々の間では、貿易の際の関税は廃止されている。

(エ) この組織の本部は、オランダのハーグに置かれている。

問(4) C国の首都ナイロビで、2016年8月27日午前9時30分(現地時間)より第6回アフリカ開発会議が始まり、この会議に出席した安倍晋三首相が基調演説を行った。このとき、日本の時刻では、何月何日の何時何分にあたるか、解答欄の午前・午後のいずれかに○印をつけて答えなさい。ただし、C国は東経45度の経線を標準時とします。

問(5) D国について述べた文として正しくないものを、下の(ア)～(エ)の中から1つ選び、記号で答えなさい。

- (ア) 先住のマレー系の人々が人口の約60%を占めるが、中国系・インド系の人々も多く住む多民族国家である。
- (イ) 19世紀末以来、茶の単一栽培がさかんに行われてきたが、現在では油やし・ココやし・さとうきびなどの栽培も行い、農業の多角化が進んでいる。
- (ウ) この国の国教は、マレー系の人々が多く信仰するイスラム教であるが、中国系の人々は仏教を、インド系の人々はヒンドゥー教を信仰する人々が多い。
- (エ) 1980年代より、マレー半島西岸に自由貿易地区を設けて、外国企業を誘致し工業化につとめた結果、電気機械・電子機器・自動車工業などが急成長した。

問(6) E国が面している南シナ海上には、E国を含め5つの国と1つの地域が領有権を主張している島嶼がある。その島嶼の名称を、下の(ア)～(エ)の中から1つ選び、記号で答えなさい。

- (ア) マリアナ諸島      (イ) 南西諸島      (ウ) 南沙群島      (エ) 尖閣諸島

問(7) E国において、国民の90%以上が信仰している宗教を、下の(ア)～(エ)の中から1つ選び、記号で答えなさい。

- (ア) イスラム教      (イ) キリスト教      (ウ) ヒンドゥー教      (エ) 仏教

問(8) 次の表(ア)～(オ)は、A～Eの国々の日本への輸出上位品目とその割合(2014年)を示している。B国およびD国にあてはまるものを、(ア)～(オ)の中から1つずつ選び、記号で答えなさい。

(ア)

輸出品目	%
液化天然ガス	45.3
電気機器	16.9
重油	8.4
合板	3.0
一般機械	2.4

(イ)

輸出品目	%
電気機器	33.2
金属鉱・金属くず	13.8
一般機械	9.5
バナナ	7.3
木製品・コルク製品	7.2

(ウ)

輸出品目	%
電気機器	21.1
一般機械	8.5
豚肉	7.9
野菜と果実	7.9
科学光学機器	7.3

(エ)

輸出品目	%
銅くず	15.0
ばらの切り花	14.8
コーヒー豆	9.6
チタン鉱	8.9
紅茶	7.8

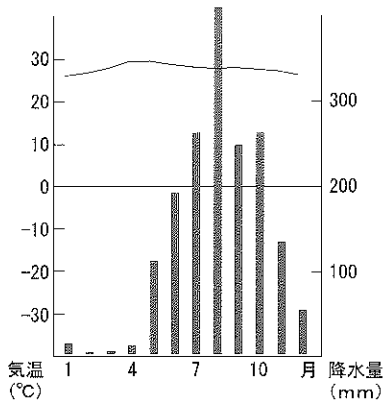
(オ)

輸出品目	%
一般機械	17.0
電気機器	13.2
医薬品	12.9
乗用車	10.5
放射性元素・有機化合物	5.3

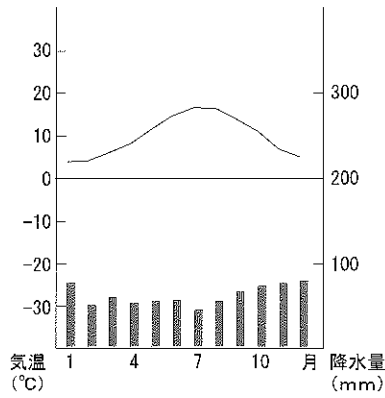
(『2016 データブック オブ・ザ・ワールド』より作成)

問(9) 次の(ア)～(オ)は、A～E国の首都の雨温図である。C国の首都の雨温図としてあてはまるものを、(ア)～(オ)の中から1つ選び、記号で答えなさい。

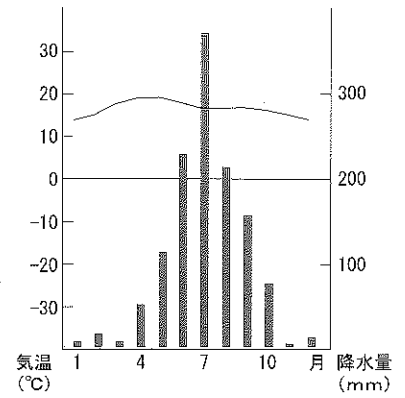
(ア)



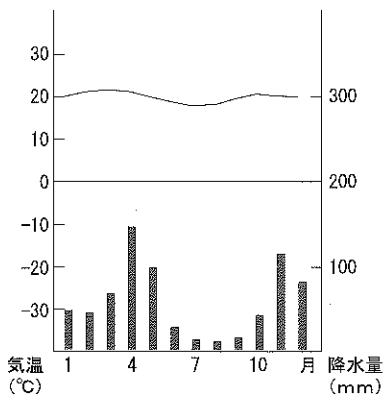
(イ)



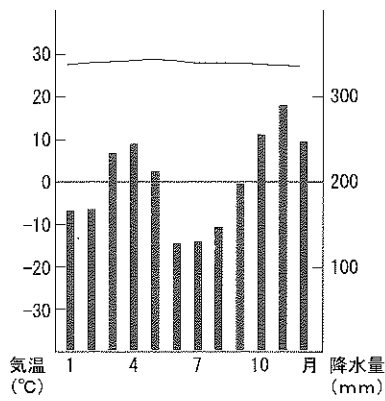
(ウ)



(エ)



(オ)



(『理科年表』より作成)

2 次の文章を読み、あとの各問いに答えなさい。

- 【Ⅰ】 東は太平洋に、西は日本海に面している。この県は全国第8位の農業産出額をほこり、農業がさかんである。県の西部にひろがる（①）ではりんごや稲の生産が、東部の三本木原の台地ではながいも・にんにく・ごぼう・だいこんなどの生産がさかんに行われている。南東部にある（a）八戸市は、日本でも有数の水あげ量をほこる漁港として、また、水産加工・製紙・セメント・金属業などが発達した、この県最大の工業都市として知られている。北東部のむつ小川原地区で大規模な工業開発が予定されていたが、計画は大幅に縮小され、1990年代に石油備蓄基地と核燃料サイクル基地が建設されるにとどまっている。8月初旬に、この県の県庁所在地や弘前市・五所川原市などで行われる「ねぶた(ねぶた)祭」は夏の東北の四大祭のひとつとして知られている。
- 【Ⅱ】 北になだらかな讃岐山脈が、中央には高くけわしい四国山地がはしっている。その間を四国最大の長さで流域面積をもつ（②）が東へ流れ、その下流には県庁所在地も位置する平野が広がっている。この川は、四国山地を横切る上流で大歩危・小歩危の深い峡谷をつくっている。この（②）流域では、古くから畑作がさかんであり、江戸時代には藍の栽培が行われていた。現在では、れんこん・さつまいも・にんじんなどの栽培が行われ、その生産量は日本有数である。また、各地ですだちの生産もさかんであり、この県の特産品となっている。工業では、県庁所在地や鳴門市・阿南市で化学工業がさかんである。（b）この県の旧国名は、現在でも地名や産物・伝統工芸・文化などで、さまざまに使われている。
- 【Ⅲ】 東西約128 km、南北約220 kmと南北に細長い形状をしている。8つの県と接し、日本で最も多くの都道府県と隣接する内陸県である。飛騨・木曾・赤石の3つの山脈が連なり、「日本の屋根」とよばれている。この県の中央に位置する（③）周辺の岡谷市などでは、戦後、それまでの製糸業にかわってカメラや時計などの精密機械工業がさかんになり、さらに近年では電子・電機・情報関連の工業が進出している。農業では、果樹の生産がさかんで、りんご・ぶどう・もも・西洋なしなどの生産量はいずれも日本有数である。また、（c）菅平の高原や野辺山原、浅間山の山ろくでは、キャベツ・レタス・はくさいなどの栽培がさかんで、東京・名古屋・大阪などの大都市へ出荷している。
- 【Ⅳ】 東は東京湾に、南は相模湾に面し、三浦半島が太平洋にむかって突き出している。西部では丹沢山地や箱根山のけわしい山地が連なっている。この県は、全国第2位の工業出荷額をほこる、屈指の工業県である。この県の県庁所在地や（④）の臨海部は、（d）東京湾西岸に立地する工業地帯の中心部で、鉄鋼・造船・自動車・石油化学などの重化学工業がさかんである。また、内陸部の相模原市・厚木市・伊勢原市などには、組み立て主体の電気機器や自動車などの機械工業が多数進出し、大規模な工業団地が形成されている。農業では、大消費地をひかえた近郊農業が行われ、キャベツ・だいこん・こまつな・キウイフルーツなどの生産量は日本有数である。漁業では、三浦半島先端の三崎港は、まぐろ・かつおなどの遠洋漁業の根拠地として知られている。県内には、県庁所在地・（④）・相模原市の3つの政令指定都市があり、その数は全国で最多である。

問(1) 文中の( ① )～( ④ )にあてはまる語句を、下の(ア)～(エ)の中からそれぞれ選び、記号で答えなさい。

- ( ① ) : (ア) 秋田平野 (イ) 仙台平野 (ウ) 津軽平野 (エ) 越後平野  
 ( ② ) : (ア) 四万十川 (イ) 那賀川 (ウ) 仁淀川 (エ) 吉野川  
 ( ③ ) : (ア) 河口湖 (イ) 諏訪湖 (ウ) 中禅寺湖 (エ) 野尻湖  
 ( ④ ) : (ア) 川崎市 (イ) 木更津市 (ウ) 習志野市 (エ) 横須賀市

問(2) 下線部(a)について、八戸市の沖合は、暖流と寒流がぶつかって潮目ができるため、よい漁場となっている。その暖流・寒流の組み合わせとして正しいものを、下の(ア)～(カ)の中から1つ選び、記号で答えなさい。

- (ア) 暖流：千島海流 寒流：日本海流 (イ) 暖流：日本海流 寒流：千島海流  
 (ウ) 暖流：日本海流 寒流：対馬海流 (エ) 暖流：対馬海流 寒流：千島海流  
 (オ) 暖流：対馬海流 寒流：リマン海流 (カ) 暖流：リマン海流 寒流：対馬海流

問(3) 下線部(b)について、この県の県庁所在地で毎年8月に行われる盆踊りは、多くの観光客を集めている。この踊りを、この県の旧国名をつけて何とよんでいるか、答えなさい。

問(4) 下線部(c)について、その出荷の時期・栽培方法の組み合わせとして正しいものを、下の(ア)～(エ)の中から1つ選び、記号で答えなさい。

- (ア) 春から夏 ・ 促成栽培 (イ) 春から夏 ・ 抑制裁培  
 (ウ) 冬から春 ・ 抑制裁培 (エ) 冬から春 ・ 促成栽培

問(5) 下線部(d)について、次の表中のA～Cは、下線部(d)の工業地帯・関東内陸工業地域・京葉工業地域のいずれかの工業出荷額と産業別出荷割合(%)を示したものである。表中のA～Cとこれらの工業地帯(地域)の組み合わせとして正しいものを、下の(ア)～(カ)の中から1つ選び、記号で答えなさい。

	工業出荷額	金属	機械	化学	食料品	繊維	その他
A	13兆9,232億円	19.0	11.2	48.4	12.3	0.2	8.9
B	26兆1,594億円	8.8	46.5	20.3	10.3	0.4	13.7
C	29兆2,571億円	11.9	45.6	9.4	15.1	0.7	17.3

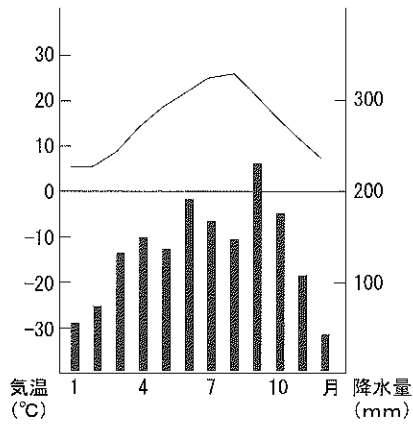
(『日本国勢図会』2016/17より作成)

- (ア) A (d)の工業地帯 B 関東内陸工業地域 C 京葉工業地域  
 (イ) A (d)の工業地帯 B 京葉工業地域 C 関東内陸工業地域  
 (ウ) A 関東内陸工業地域 B (d)の工業地帯 C 京葉工業地域  
 (エ) A 関東内陸工業地域 B 京葉工業地域 C (d)の工業地帯  
 (オ) A 京葉工業地域 B (d)の工業地帯 C 関東内陸工業地域  
 (カ) A 京葉工業地域 B 関東内陸工業地域 C (d)の工業地帯

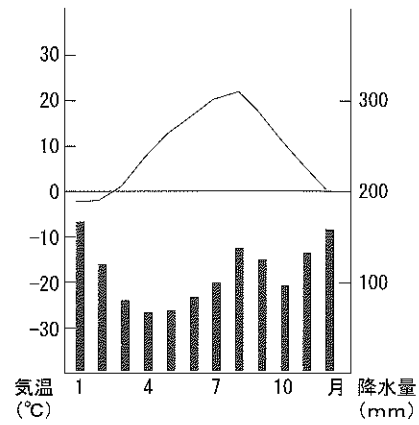
問(6) 【I】～【IV】の中には、県名と県庁所在地名が異なっている都道府県が1つある。その県庁所在地名を答えなさい。

問(7) 次の(ア)～(エ)は、【I】～【IV】の県庁所在地の雨温図である。【III】の県庁所在地の雨温図としてあてはまるものを、(ア)～(エ)の中から1つ選び、記号で答えなさい。

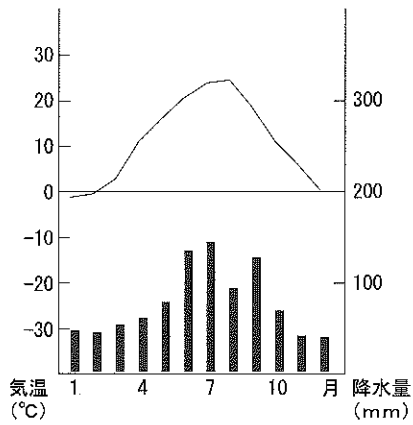
(ア)



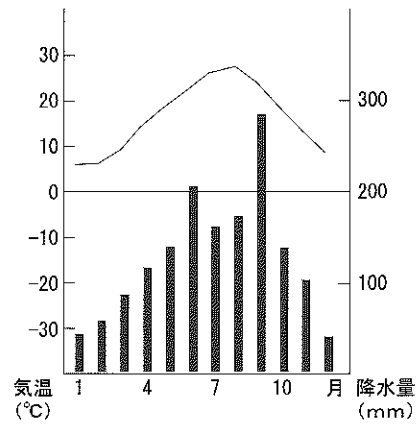
(イ)



(ウ)



(エ)



(『理科年表』より作成)

3 次の文章を読み、あとの各問いに答えなさい。

- 【Ⅰ】 今から約1万年前まで続いた氷河時代には、しばしば海面が今より100m以上低くなったため、日本列島が大陸と陸続きになっていた時期もあった。氷河時代が終わると地球が温暖になり、日本列島はほぼ現在に近い形となった。日本列島に住む人々は、表面に縄目の文様がついた土器をつくり始めた。この時代を (a) 縄文時代 という。
- 【Ⅱ】 日本は古来より、近隣諸国と交流や争いをくり返してきた。中国の歴史書である『( ① )』倭人伝には、邪馬台国を支配していた女王卑弥呼が中国に使者を送り、倭王の称号と金印、銅鏡100枚を受け取ったことが記されている。4世紀ごろの朝鮮半島には、北部に ( ② ) があり、南部には ( ③ ) と新羅が成立した。7世紀初めに中国に成立した唐は、新羅と結んで ( ③ ) を攻めると、日本は (b) 大軍を派遣して唐・新羅と戦った。
- 【Ⅲ】 奈良時代には、藤原氏などの貴族の争いがくり返され、寺院の僧侶が政治に口出しすることも多くなったため、政治は混乱していた。(c) 桓武天皇は政治を改革するため、都を (d) 山城の ( ④ ) に移した。しかし、工事の責任者が暗殺された後、九州での火山の噴火に加えて、( ④ ) 付近でも地震などの自然災害が次々と発生した。不吉なできごとが続いたため、794年、都をさらに平安京に移した。
- 【Ⅳ】 (e) 聖武天皇の命令でつくられた東大寺の大仏は、855年に発生した大地震によって頭部が落下した。大仏は修復されたが、東大寺はその後落雷による火災で講堂が焼失するなどの被害にあった。(f) 源氏と平氏の戦いの中、1180年には平重衡の軍勢によって、大仏殿などの建物が焼かれた。後白河上皇に命じられて僧の重源が復興事業を行い、(g) 宋の技術と様式を用いて東大寺は再建された。(h) 東大寺南大門は大仏様という建築様式で建てられ、強風や地震の揺れにも強い免震構造になっている。
- 【Ⅴ】 1549年、イエズス会の宣教師フランシスコ＝ザビエルにより、日本に (i) キリスト教が伝えられた。イエズス会などカトリックによる布教は、(j) 宗教改革によって登場したプロテスタントに対抗する目的で行われていた。宣教師たちの活動により、キリシタンとよばれた信者はしだいに増えていき、江戸幕府によってキリスト教が禁止される直前には、全国で30万人をこえるほどになっていたといわれる。
- 【Ⅵ】 1783年に浅間山の大噴火がおこった。これに冷害・水害などが重なって全国的な天明のききんが発生した。米価が急激に上昇し、一揆や打ちこわしが多発する中で、当時の老中であった ( ⑤ ) はその職をやめることになった。( ⑤ ) のあと老中となった (k) 松平定信は、質素・儉約を目標とした ( ⑥ ) の改革を行い、あれた農村と幕府財政の立て直しに取り組んだ。



問(1) 文中の ( ① ) ~ ( ⑥ ) にあてはまる語句を、下の語群の中から1つずつ選び、記号で答えなさい。

- (ア) 百済                      (イ) 藤原京                      (ウ) 長岡京                      (エ) 天保  
(オ) 高句麗                      (カ) 漢書                      (キ) 田沼意次                      (ク) 新井白石  
(ケ) 魏志                      (コ) 寛政

問(2) 下線部 (a) について、縄文時代について述べた文として正しくないものを、下の(ア)~(エ)の中から1つ選び、記号で答えなさい。

- (ア) 縄文時代の代表的な遺跡には、青森県の三内丸山遺跡などがある。  
(イ) シカやイノシシなどのすばやい小型動物を狩るため、弓矢が作られた。  
(ウ) 打製石器に加えて、石を磨いてつくる磨製石器が使用された。  
(エ) 九州に伝わった稲作が東北地方まで広まり、収穫された稲は高床倉庫にたくわえられた。

問(3) 下線部 (b) について、唐・新羅の連合軍と戦い、日本が敗北した戦いを何というか、答えなさい。

問(4) 下線部 (c) の人物は、東北地方に大軍を派遣し、律令国家に従わない人々を攻めた。この頃の東北地方の人々を何とよんだか、答えなさい。

問(5) 下線部 (d) について、山城国の現在の都道府県名を答えなさい。

問(6) 下線部 (e) に関して、聖武天皇が大仏をつくらせる命令を出した同じ年に、新たに開墾した土地であれば、開墾した者が永久に所有することを認める法令が出されているが、この法令を何というか、答えなさい。

問(7) 下線部 (f) に関して、1185年3月に源氏が平氏を滅亡においこんだ戦いを、下の(ア)~(エ)の中から1つ選び、記号で答えなさい。

- (ア) 富士川の戦い      (イ) 壇ノ浦の戦い      (ウ) 屋島の戦い      (エ) 一ノ谷の戦い

問(8) 下線部 (g) に関して、平清盛が宋との貿易をすすめるために整備した港を、下の(ア)~(エ)の中から1つ選び、記号で答えなさい。

- (ア) 博多                      (イ) 堺                      (ウ) 浦賀                      (エ) 兵庫

問(9) 下線部 (h) の東大寺南大門におさめられている、運慶・快慶らによって作られた像を何というか、答えなさい。

問(10) 下線部 (i) に関して、日本にキリスト教が伝わった後のできごとについて述べた文として正しくないものを、下の (ア) ~ (エ) の中から1つ選び、記号で答えなさい。

(ア) 織田信長は、キリスト教を取り締まるため、バテレン追放令を出した。

(イ) 島原・天草の人々は、重い年貢やキリスト教の取り締まりに反対して一揆を起こした。

(ウ) 江戸幕府は、キリシタンを見つけ出すために絵踏を行った。

(エ) 江戸幕府は、宗門改めによって寺院に仏教徒であることを証明させ、キリスト教を取り締まった。

問(11) 下線部 (j) について、1517年、ドイツで聖書の教えにもとづいた信仰の大切さを主張し、宗教改革の口火を切った人物は誰か、答えなさい。

問(12) 下線部 (k) について、彼が行った改革の内容として正しくないものを、下の (ア) ~ (エ) の中から1つ選び、記号で答えなさい。

(ア) ききんにそなえて米をたくわえさせた。

(イ) 公事方御定書を制定した。

(ウ) 江戸に出かせぎに来ていた者を農村に帰らせた。

(エ) 旗本や御家人の借金を帳消しにした。

4 次の略年表を見て、あとの各問いに答えなさい。

年 代	で き ご と
1894	甲午農民戦争をきっかけに、 <u>(a) 日清戦争</u> が始まる
1904	日本国内で、開戦の世論が強まるなかで、 <u>(b) 日露戦争</u> が始まる
1914	日本が ( ① ) 同盟を理由に <u>(c) 第一次世界大戦</u> に参戦する
1920	アメリカ大統領ウィルソンの提唱によって、 <u>(d) 国際連盟</u> が発足する
【X】	
1931	奉天付近の ( ② ) で南満州鉄道の線路が爆破され、満州事変が始まる
1932	<u>(e) 満州国</u> が建国され、( ③ ) が執政に就任する
1937	北京郊外の ( ④ ) で発生した事件をきっかけに、日中戦争が始まる
1939	ドイツ軍の ( ⑤ ) 侵攻をきっかけに、第二次世界大戦が始まる
1941	日本軍がハワイの真珠湾を奇襲攻撃して、 <u>(f) 太平洋戦争</u> が始まる
1945	日本が <u>(g) ポツダム宣言</u> を受け入れ、降伏する

問(1) 年表中の ( ① ) ~ ( ⑤ ) にあてはまる語句を、下の語群の中から1つずつ選び、記号で答えなさい。

- |            |          |           |         |
|------------|----------|-----------|---------|
| (ア) フィンランド | (イ) ベルギー | (ウ) ポーランド | (エ) 日独伊 |
| (オ) 日英     | (カ) 三国   | (キ) 溥儀    | (ク) 袁世凱 |
| (ケ) 孫文     | (コ) 盧溝橋  | (サ) 柳条湖   | (シ) 旅順  |
| (ス) 遼東半島   | (セ) 台湾   | (ソ) 南京    |         |

問(2) 下線部 (a) について、戦後、清から得た賠償金などを用いて、九州に設立された官営の製鉄所を何というか、答えなさい。

問(3) 下線部 (b) について、日露戦争の講和条約が締結された都市はどこか、答えなさい。

問(4) 下線部(c)に関して述べた文として正しいものを、下の(ア)～(エ)の中から1つ選び、記号で答えなさい。

- (ア) 日本は大戦中、フランスの植民地であるインドシナ北部に侵攻した。
- (イ) アメリカ・イギリス・ソ連の代表は、ヤルタで会談してドイツの戦後処理を決めた。
- (ウ) イギリスはイタリア・オーストリアとともに三国協商を締結していた。
- (エ) オーストリア皇太子夫妻がサラエボで暗殺された事件をきっかけに、大戦が始まった。

問(5) 下線部(d)について述べた文として正しくないものを、下の(ア)～(エ)の中から1つ選び、記号で答えなさい。

- (ア) イギリス・フランス・アメリカ・日本が常任理事国となった。
- (イ) 国際連盟の事務局次長として新渡戸稲造が活躍した。
- (ウ) 本部はスイスのジュネーブにおかれた。
- (エ) ドイツやソ連は当初参加を認められなかったが、後に加盟した。

問(6) 下線部(e)について、満州国の承認を先のぼしにしていた首相が、1932年5月15日に海軍の青年将校に射殺された。この首相は誰か、下の(ア)～(エ)の中から1つ選び、記号で答えなさい。

- (ア) 原敬
- (イ) 浜口雄幸
- (ウ) 加藤高明
- (エ) 犬養毅

問(7) 下線部(f)に関して、1942年6月、アメリカ軍が反撃に出るきっかけとなった戦いが起こった場所を、下の(ア)～(エ)の中から1つ選び、記号で答えなさい。

- (ア) サイパン島
- (イ) レイテ島
- (ウ) ミッドウェー諸島
- (エ) ソロモン諸島

問(8) 下線部(g)について、この都市はどこにこの国にあるか、下の(ア)～(エ)の中から1つ選び、記号で答えなさい。

- (ア) イタリア
- (イ) ドイツ
- (ウ) イギリス
- (エ) アメリカ

問(9) 年表中の【X】の時期に起きたできごととして正しくないものを、下の(ア)～(エ)の中から1つ選び、記号で答えなさい。

- (ア) 普通選挙法が制定された。
- (イ) 日本でラジオ放送が開始された。
- (ウ) 日本は韓国を併合した。
- (エ) 治安維持法が制定された。

5 次の各問いに答えなさい。

問(1) 次の文章を読み、あとの(i)~(iii)の問いに答えなさい。

ある企業が、日本円で、300万円で売られている自動車をアメリカで販売する。1ドルが100円の場合は、アメリカでの販売価格は30,000ドルになる。1ドルが75円になった場合には、アメリカでの販売価格は(①)ドルとなる。このため、1ドルが100円から75円になるような(②)の場合には、日本からの輸出はこの企業にとって、(③)であるといえる。こうした、本国通貨と外国通貨との交換比率である(④)は、市場で決定される。

(i) 文中の(①)にあてはまる数字を、下の(ア)~(エ)の中から1つ選び、記号で答えなさい。

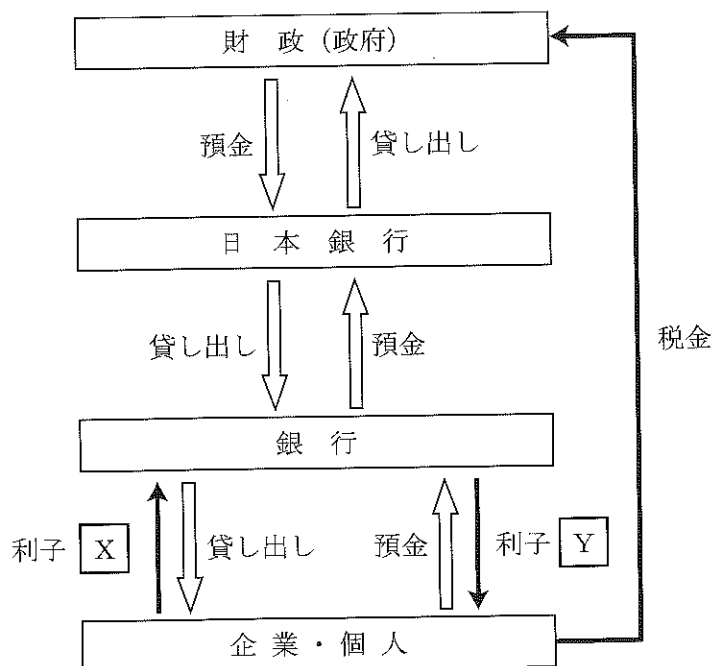
- (ア) 20,000                      (イ) 22,500                      (ウ) 37,500                      (エ) 40,000

(ii) 文中の(②)・(③)にあてはまる語句の組み合わせとして正しいものを、下の(ア)~(エ)の中から1つ選び、記号で答えなさい。

- (ア) ②：円高      ③：有利                      (イ) ②：円高      ③：不利  
 (ウ) ②：円安      ③：有利                      (エ) ②：円安      ③：不利

(iii) 文中の(④)にあてはまる語句を答えなさい。

問(2) 次の図を見て、あとの(i)~(iii)の問いに答えなさい。



(i) 日本銀行の説明として正しくないものを、下の(ア)～(エ)の中から1つ選び、記号で答えなさい。

(ア) 4種類の日本銀行券を発行している。

(イ) 不景気の際には、資金調達のために、市場で国債などを売っている。

(ウ) 政府の資金を預かり、政府に財政資金を貸し付けている。

(エ) 中央銀行として、金融政策により通貨量を調節している。

(ii) 税金について、間接税にあたるものを、下の(ア)～(エ)の中から1つ選び、記号で答えなさい。

(ア) 法人税      (イ) 固定資産税      (ウ) 所得税      (エ) 消費税

(iii) 図の利子 $\square X$ と利子 $\square Y$ の関係として正しいものを、下の(ア)～(ウ)の中から1つ選び、記号で答えなさい。

(ア)  $\square X$ の利子率の方が $\square Y$ の利子率より低い。

(イ)  $\square X$ の利子率と $\square Y$ の利子率は同じである。

(ウ)  $\square X$ の利子率の方が $\square Y$ の利子率より高い。

問(3) 株式会社に関するあとの(i)・(ii)の問いに答えなさい。

(i) 株式会社の最高議決機関を何というか、答えなさい。

(ii) 企業の発行した株式の売買を行うところを何というか、答えなさい。

問(4) 日本国憲法に関するあとの(i)～(iv)の問いに答えなさい。

(i) 憲法改正の発議を行うためには、衆議院と参議院の合わせて最低何人の賛成が必要か、現在の定数で計算し、答えなさい。

(ii) 日本国憲法が施行された日である「憲法記念日」は何月何日か、答えなさい。

(iii) 「1票の格差」は憲法第14条に反するとして違憲および違憲状態の判決が出ている。下の憲法第14条の $\square A$ ・ $\square B$ にあてはまる語句を答えなさい。

すべて国民は、法の下に $\square A$ であって、人種、信条、性別、社会的身分又は $\square B$ により、政治的、経済的又は社会的関係において、差別されない。

(iv) 戦後、「1票の格差」が拡大し、昭和47年には4.99倍に拡大して、最高裁判所が憲法違反とした。「1票の格差」を是正するために行った政策として、下の(A)・(B)の正誤を判定し、正しい組み合わせを、下の(ア)～(エ)の中から1つ選び、記号で答えなさい。

(A) 2015年に公職選挙法が改正され、参議院議員選挙で鳥取県と島根県、および徳島県と高知県がそれぞれ一つの選挙区(合区)となった。

(B) 2016年の夏に実施された参議院議員選挙で、18歳から投票できるようにした。

(ア) (A)・(B)ともに正しい

(イ) (A)のみ正しい

(ウ) (B)のみ正しい

(エ) (A)・(B)ともに正しくない

問(5) 労働に関するあとの(i)・(ii)の問いに答えなさい。

(i) 労働基準法の内容として正しくないものを、下の(ア)～(エ)の中から1つ選び、記号で答えなさい。

(ア) 休日は毎週最低2回

(イ) 労働時間は週40時間以内

(ウ) 女性の賃金差別禁止

(エ) 労働者と使用者の対等

(ii) 女性を取り巻く労働環境として正しくないものを、下の(ア)～(エ)の中から1つ選び、記号で答えなさい。

(ア) 採用における男女差別を禁止するため、1986年に男女雇用機会均等法が施行された。

(イ) 病気やリストラ、家計への不安から、夫婦共働きの世帯が増えている。

(ウ) 近年の景気の回復とともに、女性の正規雇用割合が増えている。

(エ) 男女共に能力を発揮できる社会を目指して、1999年に男女共同参画社会基本法が施行された。

問(6) 人権に関するあとの(i)・(ii)の問いに答えなさい。

(i) 人権思想の発展に貢献した人物およびその記述として正しくないものを、下の(ア)～(エ)の中から1つ選び、記号で答えなさい。

(ア) ルソーは『社会契約論』を著し、国民主権を唱えた。

(イ) モンテスキューは『法の精神』を著し、三権分立を唱えた。

(ウ) ワシントンは、「人民の人民による人民のための政治」という演説を行った。

(エ) ロックは『統治二論』で、革命権(抵抗権)を主張した。

(ii) 国や地方公共団体などに対し、情報公開を求める権利は、近年「新しい人権」の1つとして認められている。これにあてはまる権利を、下の(ア)～(エ)の中から1つ選び、記号で答えなさい。

(ア) 環境権

(イ) プライバシーの権利

(ウ) 自己決定権

(エ) 知る権利