

受験番号

平成 29 年度  
早稲田摂陵中学校入学試験問題  
(1 月 14 日午前実施 本校会場)

# 社 会

## 注 意 事 項

1. 試験開始の合図があるまで、問題冊子を開いてはいけません。
2. この問題冊子は 12 ページまであります。
3. 解答はすべて所定の解答用紙に記入してください。
4. 解答用紙は問題冊子の中にはさんであります。
5. 質問があるときは、静かに手をあげてください。
6. 問題冊子にも受験番号を記入し、試験が終わったら提出してください。

1 次の文章を読み、あとの問いに答えなさい。

世界遺産条約は、文化遺産や自然遺産を保護・保存していくために国際的な協力や援助<sup>えんじょ</sup>をしていくことを目的にしています。この条約にもとづいて登録されている世界遺産には、建物や遺跡<sup>いせき</sup>などの「文化遺産」、自然地域などの「自然遺産」、文化と自然両方の要素をもった「複合遺産」の3種類があります。

昨年7月、(a)トルコで開かれた(b)国連教育科学文化機関第40回世界遺産委員会で、フランス政府が日本をふくむ7カ国と共同で推せんしていた「ル・コルビュジエの建築作品」が、世界文化遺産への登録が決定されました。この結果、日本の世界遺産の数は自然遺産が4件、文化遺産が16件、合計20件となり、ブラジルとならんで登録数は世界第12位となりました。

日本には、現在47都道府県中26都道府県に世界遺産があります。地域別に見てみると、(c)北海道では、(d)知床が自然遺産に登録されています。(e)東北地方では、青森県と秋田県にまたがる(①)山地が自然遺産に、岩手県の(②)にある中尊寺などが文化遺産として登録されています。(f)関東地方では、東京都の上野にある国立西洋美術館や栃木県の(③)にある東照宮などの神社・寺院と、群馬県にある(④)製糸場などが文化遺産として登録されています。(g)中部地方では、岐阜県の(⑤)郷や富山県の五箇山<sup>がっしやう</sup>の合掌づくり集落、山梨県と静岡県にまたがる富士山およびその周辺の地域などが文化遺産に登録されています。近畿地方では、古都奈良・京都の多くの文化財や兵庫県の(⑥)城、和歌山・三重・奈良の3県にまたがる紀伊山地<sup>れいじやう</sup>の霊場などが、また、中国地方では、広島県の(h)原爆ドームや平清盛と関係が深い(⑦)神社、島根県の(⑧)銀山遺跡などが文化遺産に登録されています。九州・沖縄地方では、縄文すぎで有名な鹿児島県の(⑨)島は自然遺産に、(i)長崎県や佐賀県・福岡県などの明治の産業革命遺産や、那覇市にある(⑩)城跡<sup>あつ</sup>などの琉球王国時代の遺産は文化遺産として登録されています。

世界遺産は、登録後、6年ごとに保護・保存<sup>じゆうきよう</sup>の状況<sup>じゆうきよう</sup>を報告し、世界遺産委員会の再審査<sup>さいしんさ</sup>を受けることとなっています。自然災害や環境悪化、地域紛争による破壊から守っていくにはどうするのか、保存のための技術と資金はどうするのかなど、多くの課題があります。貴重な遺産を守っていくため、よりいっそう各国が話し合いを深め、協力していくことが大切になります。

問(1) 文中の(①)～(⑩)にあてはまる語句を、下の語群の中から1つずつ選び、記号で答えなさい。

- |        |        |        |        |        |
|--------|--------|--------|--------|--------|
| (ア) 生野 | (イ) 巖島 | (ウ) 石見 | (エ) 首里 | (オ) 白神 |
| (カ) 白川 | (キ) 竹田 | (ク) 出羽 | (ケ) 富岡 | (コ) 名護 |
| (サ) 日光 | (シ) 姫路 | (ス) 平泉 | (セ) 盛岡 | (ソ) 屋久 |

問(2) 下線部(a)について、トルコの首都のアンカラは北緯<sup>ほく い</sup>40度にあります。ほぼ同緯度にある秋田県の半島を何といいますか、下の(ア)～(エ)の中から1つ選び、記号で答えなさい。

- (ア) 男鹿半島 (イ) 牡鹿半島 (ウ) 下北半島 (エ) 津軽半島

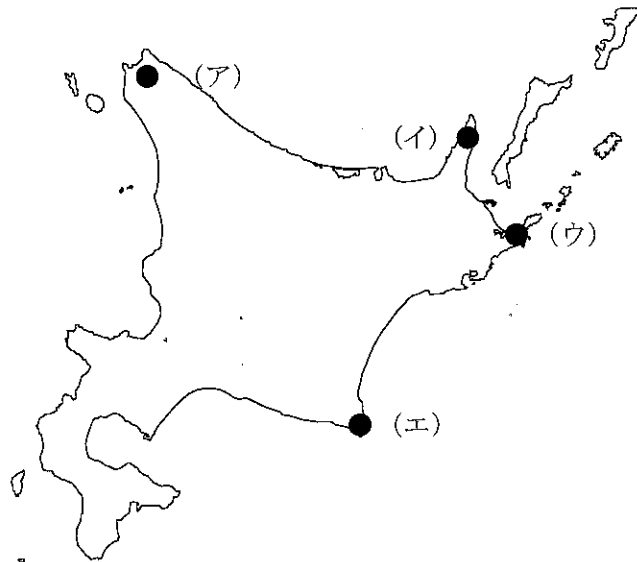
問(3) 下線部(b)について、この組織のアルファベット略称<sup>りゃくしょう</sup>として正しいものを、下の(ア)～(エ)の中から1つ選び、記号で答えなさい。

- (ア) UNESCO (イ) UNICEF (ウ) WHO (エ) WTO

問(4) 下線部(c)について、北海道地方についてのべた文として正しくないものを、下の(ア)～(エ)の中から1つ選び、記号で答えなさい。

- (ア) 石狩平野では、土地改良と品種改良がすすみ、稲作<sup>いなさく</sup>がさかんです。  
(イ) 上川盆地<sup>ぼんち</sup>では、稲作のほか、食料品・紙・パルプなどの製造業もさかんです。  
(ウ) 根釧台地では、乳牛を飼育し乳製品をつくる酪農<sup>らくのう</sup>のほか、畑作もさかんです。  
(エ) 十勝平野では、だいず・じゃがいも・あずきなどの畑作がさかんです。

問(5) 下線部(d)について、知床の位置を下の地図中の(ア)～(エ)の中から1つ選び、記号で答えなさい。



問(6) 下線部(e)について、次の問いに答えなさい。

- (A) 太平洋側で初夏から夏にかけて冷たい北東風がふきこみ、冷害がおこることがあります。この北東風を何といいますか、答えなさい。
- (B) 東北地方の伝統工芸品と県名の組み合わせとして正しいものを、下の(ア)～(エ)の中から1つ選び、記号で答えなさい。
- |             |   |     |                            |   |     |
|-------------|---|-----|----------------------------|---|-----|
| (ア) 南部鉄器    | — | 秋田県 | (イ) 鳴子こけし                  | — | 岩手県 |
| (ウ) 大館曲げわっぱ | — | 宮城県 | (エ) 天童将棋駒 <sup>しょうごま</sup> | — | 山形県 |
- (C) 福島県で生産されているくだものの中で、全国第2位の生産量(2014年)となっているものを、下の(ア)～(エ)の中から1つ選び、記号で答えなさい。
- (ア) うめ (イ) もも (ウ) ぶどう (エ) おうとう



問(10) 下線部(i)についてのべた文として正しいものを、下の(ア)～(エ)の中から1つ選び、記号で答えなさい。

(ア) 朝鮮半島に最も近く、古くからアジア諸国との窓口になっています。官営の八幡製鉄所が建設され鉄鋼業が発達しました。

(イ) 八代平野で栽培されるたたま表さいばいの原料となるい草の生産量は、全国一です。県の北東部には、日本最大級のカルデラをもつ阿蘇山があります。

(ウ) 日田市は、全国有数のすぎの山地として知られています。臨海部には石油化学コンビナートがつくられ、県の東南部はリアス海岸がつづいています。

(エ) リアス海岸がつづく海岸線は非常に複雑で、海岸線の長さは北海道につぎます。平地が少ないため、山の斜面しゃめんを利用したみかんやびわの栽培がさかんです。

2 次の略年表を見て、あとの問いに答えなさい。

年 代	で き ご と	
239年	邪馬台国の( ① )が中国に使いをおくる	----- a
607年	( ② )が中国に派遣される	----- b
645年	大化の改新が始まる	----- c
710年	平城京に都がうつる	----- d
752年	東大寺に大仏がつくられる	----- e
1016年	( ③ )が摂政になる	----- f
1192年	( ④ )が征夷大将軍となる	----- g
1274年	元がせめてくる	----- h
1404年	中国との貿易が始まる	----- i
1543年	鉄砲 <small>てっぽう</small> が伝わる	----- j
1590年	( ⑤ )が全国を統一する	----- k
1641年	鎖国の体制が固まる	----- l
X		
1853年	アメリカの使者ペリーが浦賀に来る	----- m
Y		
1890年	第1回帝国議会が開かれる	----- n
1904年	日露戦争がおこる	----- o
1931年	満州事変がおこる	----- p

問(1) 年表中の( ① )～( ⑤ )にあてはまる人物名を、漢字で答えなさい。

問(2) 年表中 a に関して、次の問いに答えなさい。

(A) 邪馬台国の様子が、中国の古い歴史の本にしろされています。この中で当時の日本はどのように呼ばれていましたか、漢字で答えなさい。

(B) このころに存在していた、集落のまわりを大きな二重の堀ほりやさくで囲んだ吉野ヶ里遺跡は、現在の何県で発見されましたか、下の(ア)～(エ)の中から1つ選び、記号で答えなさい。

(ア) 静岡県 (イ) 熊本県 (ウ) 青森県 (エ) 佐賀県

問(3) 年表中 b に関して、次の問いに答えなさい。

(A) このころに建てられた、世界で最も古い木造建築の寺院を、下の(ア)～(エ)の中から1つ選び、記号で答えなさい。

(ア) 法隆寺 (イ) 唐招提寺 (ウ) 四天王寺 (エ) 興福寺

(B) このころの政治の内容を説明した文として正しくないものを、下の(ア)～(エ)の中から1つ選び、記号で答えなさい。

- (ア) 家がらにとられず、能力のある豪族<sup>ごうぞく</sup>を役人に取り立てました。
- (イ) 政治をおこなう役人の心構えを示すための憲法を定めました。
- (ウ) 王や豪族は各地に勢力を広げ、大きな前方後円墳をつくりました。
- (エ) 寺院を建てるなどして、仏教をさかんにすることに力を入れました。

問(4) 年表中cに関して、次の問いに答えなさい。

(A) この改革が始まる以前に、天皇をしのぐほどの力をもっていた豪族を、下の(ア)～(エ)の中から1つ選び、記号で答えなさい。

- (ア) 物部氏      (イ) 蘇我氏      (ウ) 中臣氏      (エ) 大伴氏

(B) このころに新しく定められた税である「租」について説明した文として正しいものを、下の(ア)～(エ)の中から1つ選び、記号で答えなさい。

- (ア) 1年に10日、都で働くか、布をおさめます。
- (イ) 織物や地方の特産物をおさめます。
- (ウ) 都や九州の守りにつきます。
- (エ) 口分田<sup>しゅうかく</sup>の収穫の約3%を稲でおさめます。

問(5) 年表中dに関して、次の問いに答えなさい。

(A) この都をつくるのに見習った中国の王朝を、下の(ア)～(エ)の中から1つ選び、記号で答えなさい。

- (ア) 隋      (イ) 宋      (ウ) 唐      (エ) 明

(B) このころ、天皇や貴族・農民・兵士などのよんだ歌をおさめているものを、下の(ア)～(エ)の中から1つ選び、記号で答えなさい。

- (ア) 「万葉集」      (イ) 「日本書紀」      (ウ) 「古事記」      (エ) 「風土記」

問(6) 年表中eに関して、次の問いに答えなさい。

(A) このころ、聖武天皇がおこなった政治の内容として正しくないものを、下の(ア)～(エ)の中から1つ選び、記号で答えなさい。

- (ア) 全国に国分寺・国分尼寺を建てるように命じました。
- (イ) 中国へ使者や留学生を送り、皇帝中心<sup>こうてい</sup>の政治のしくみや文化を学ばせました。
- (ウ) 正式に仏教をひろめるために、中国からすぐれた僧<sup>そう</sup>を招きました。
- (エ) 朝廷<sup>ちやうてい</sup>の政治を、有力な僧だけで動かすようになりました。

(B) このころ、人々のために橋や道、池や水路などをつくり仏教をひろめた僧を、下の(ア)～(エ)の中から1つ選び、記号で答えなさい。

- (ア) 鑑真      (イ) 行基      (ウ) 最澄      (エ) 空海

問(7) 年表中 f に関して、次の問いに答えなさい。

(A) このころ、かな文字を用いて日本人の感情をより自由に表現した作品が多く生み出されました。このような日本風の文化を何といいますか、漢字で答えなさい。

(B) このあと、平等院鳳凰堂を建てた人物を、下の(ア)～(エ)の中から1つ選び、記号で答えなさい。

(ア) 藤原鎌足 (イ) 藤原頼通 (ウ) 藤原冬嗣 (エ) 藤原不比等

問(8) 年表中 g に関して、この將軍家がとだえたあと、朝廷は幕府をたおそうと兵をあげました。

この時、<sup>どうよう</sup>動揺する御家人たちを団結させた人物を、下の(ア)～(エ)の中から1つ選び、記号で答えなさい。

(ア) 北条時政 (イ) 北条時宗 (ウ) 北条政子 (エ) 北条時頼

問(9) 年表中 h に関して、次の問いに答えなさい。

(A) この戦いについてのべた内容として正しくないものを、下の(ア)～(エ)の中から1つ選び、記号で答えなさい。

(ア) 元軍はこの時をふくめて2度にわたり九州北部におしよせてきました。

(イ) 幕府は1度めの戦いのあと、石垣をつくらせて守りを固めました。

(ウ) 元軍は武士たちの抵抗や暴風雨などにより、大損害を受けて大陸に引きあげました。

(エ) 御家人たちは命がけで戦って領地をもらい、幕府に対する信用が高まりました。

(B) この戦いで元軍が使用した火薬を爆発させる兵器を何といいますか、ひらがな4文字で答えなさい。

問(10) 年表中 i に関して、次の問いに答えなさい。

(A) この貿易をはじめた人物を、下の(ア)～(エ)の中から1つ選び、記号で答えなさい。

(ア) 足利義政 (イ) 足利尊氏 (ウ) 足利義昭 (エ) 足利義満

(B) このあとに流行した、たたみや障子・ふすまなどを使った日本独自の建築様式を、下の(ア)～(エ)の中から1つ選び、記号で答えなさい。

(ア) 禅宗様 (イ) 書院造 (ウ) 和様 (エ) 寝殿造

問(11) 年表中 j に関して、次の問いに答えなさい。

(A) 鉄砲が伝えられた種子島は現在の何県にありますか、下の(ア)～(エ)の中から1つ選び、記号で答えなさい。

(ア) 沖縄県 (イ) 宮崎県 (ウ) 鹿児島県 (エ) 長崎県



(B) 鉄砲に関してのべた次のⅠ・Ⅱの文を読み、その正誤の組み合わせとして正しいものを、下の(ア)～(エ)の中から1つ選び、記号で答えなさい。

Ⅰ 織田・徳川連合軍が約3000丁の鉄砲を使って当時最強といわれた武田軍の騎馬隊<sup>きばたい</sup>をやぶりました。

Ⅱ 鉄砲のつくり方は戦国の世にまたたくまに広がり、堺(大阪府)や国友(滋賀県)で大量に生産されました。

- (ア) Ⅰ 正 Ⅱ 正                      (イ) Ⅰ 正 Ⅱ 誤  
(ウ) Ⅰ 誤 Ⅱ 正                      (エ) Ⅰ 誤 Ⅱ 誤

問(12) 年表中kに関して、こののちの2度にわたる朝鮮出兵により、朝鮮から焼き物の技術が日本に伝わりました。この時より受けつがれている佐賀県を代表する焼き物を、下の(ア)～(エ)の中から1つ選び、記号で答えなさい。

- (ア) 薩摩焼              (イ) 平戸焼              (ウ) 萩焼              (エ) 有田焼

問(13) 年表中lに関して、次の問いに答えなさい。

(A) 鎖国までの流れについてのべたⅠ・Ⅱ・Ⅲの文を、年代の古い順にならべた場合の正しい組み合わせを、下の(ア)～(カ)の中から1つ選び、記号で答えなさい。

Ⅰ 日本人の海外渡航・帰国を禁止しました。

Ⅱ キリスト教を禁止しました。

Ⅲ 島原・天草一揆<sup>いっぎ</sup>がおこりました。

- (ア) Ⅰ→Ⅱ→Ⅲ              (イ) Ⅰ→Ⅲ→Ⅱ              (ウ) Ⅱ→Ⅰ→Ⅲ  
(エ) Ⅱ→Ⅲ→Ⅰ              (オ) Ⅲ→Ⅰ→Ⅱ              (カ) Ⅲ→Ⅱ→Ⅰ

(B) 幕府から、キリスト教を広めるおそれのない国として長崎の出島において貿易を許された国を、下の(ア)～(エ)の中から1つ選び、記号で答えなさい。

- (ア) ポルトガル              (イ) オランダ              (ウ) イギリス              (エ) スペイン

問(14) 年表中mに関して、次の問いに答えなさい。

(A) このあと結ばれた2つの条約についてのべた次のⅠ・Ⅱの文を読み、その正誤の組み合わせとして正しいものを、下の(ア)～(エ)の中から1つ選び、記号で答えなさい。

Ⅰ 1854年に結ばれた日米和親条約により、函館・新潟・横浜・神戸・長崎の5港が貿易のために開かれました。

Ⅱ 1858年に結ばれた日米修好通商条約には、外国人が日本で罪をおかしても、日本は処罰<sup>しよばつ</sup>できないなど不平等な内容がふくまれていました。

- (ア) Ⅰ 正 Ⅱ 正                      (イ) Ⅰ 正 Ⅱ 誤  
(ウ) Ⅰ 誤 Ⅱ 正                      (エ) Ⅰ 誤 Ⅱ 誤

(B) このころの社会の状況についてのべた文として正しくないものを、下の(ア)～(エ)の中から1つ選び、記号で答えなさい。

(ア) 開国して貿易がはじまると、国内の品物が不足し、人々の生活を苦しめました。

(イ) ヨーロッパの医学・天文学・印刷技術がはじめて伝えられました。

(ウ) 幕府をたおして天皇中心の国家をつくる運動がおこりました。

(エ) 世直しを求めて一揆や打ちこわしが各地でおこりました。

問(15) 年表中nに関して、国会が開設されるに先立って政党をつくった人物の組み合わせとして正しいものを、下の(ア)～(エ)の中から1つ選び、記号で答えなさい。

(ア) 板垣退助—大隈重信

(イ) 伊藤博文—大隈重信

(ウ) 伊藤博文—大久保利通

(エ) 大久保利通—板垣退助

問(16) 年表中oに関して、この戦争の時、「君死にたまふことなかれ」とうたう反戦詩を発表した詩人を、下の(ア)～(エ)の中から1つ選び、記号で答えなさい。

(ア) 樋口一葉

(イ) 石川啄木

(ウ) 平塚らいてう

(エ) 与謝野晶子

問(17) 年表中pに関して、この事変を調査し、満州国の取り消しと日本軍の<sup>せんりょうち</sup>占領地からの引きあげを日本に求めた国際組織を、漢字で答えなさい。

問(18) 年表中Xの時期の文化についてのべた次の文章を読み、下線部(ア)～(キ)の中から正しくないものを2つ選んで記号で答え、それぞれ正しい語句に直し、漢字で答えなさい。

江戸や大阪などの大都市では、町人たちが中心になって、新しい文化を生み出していきました。(ア)人形浄瑠璃や(イ)歌舞伎は、人々の楽しみとして広まり、<sup>しばい</sup>芝居小屋はたくさん見物客でにぎわいました。(ウ)近松門左衛門は、町人の姿を生き生きとえがいた芝居の<sup>きやくほん</sup>脚本を数多く残しています。

絵画では、このころ発達した木版の技術を用いて、色あざやかな(エ)水墨画が大量につくられました。なかでも(オ)東洲斎写楽の「東海道五十三次」や(カ)葛飾北斎の「富嶽三十六景」などの風景画や、人気役者をえがいた役者絵・女性をえがいた美人画が、人気を集めました。

また、(キ)松尾芭蕉は、自然をたくみによみこんだ味わい深い俳句を数多くつくりました。都市で栄えたこれらの文化は、人々の交流によって地方に広まり、各地で親しまれるようになっていきました。

問(19) 年表中Yの時期にドイツへ留学して、コッホの研究所で学び、<sup>はしやうふうきん</sup>破傷風菌の<sup>じゆんすいばいよう</sup>純粋培養に成功した人物を、下の(ア)～(エ)の中から1つ選び、記号で答えなさい。

(ア) 杉田玄白

(イ) 北里柴三郎

(ウ) 湯川秀樹

(エ) 野口英世

3 次の文章を読み、あとの問いに答えなさい。

- I 日本国憲法では、国民は国の主権者であるとしています。(a)選挙で国会議員を選ぶことを通して、(b)私たちの意思が政治に反映されます。
- II 私たちが政治に参加するためには、国や地方公共団体の活動を知り、正確に判断する必要があります。そこで、(c)国や地方公共団体は持っている情報を国民に提供する制度をもうけています。
- III 国や地方公共団体は(d)国民が納める税金によって、国民が生活しやすい社会をつくっています。国や地方公共団体は(e)障がいの有無や年齢にかかわらず、生活しやすい社会をつくらなくてはなりません。
- IV 世界では紛争・内戦が続いている国があります。国際連合では紛争・内戦に巻きこまれ、困難な状況にある子どもを守る活動や、(f)平和維持活動を行っています。

問(1) 下線部(a)に関して、次の問いに答えなさい。

- (A) 2015年6月に公職選挙法が改正されたことにより、選挙権は満何才以上へと引き上げられましたか、答えなさい。
- (B) 投票日に用事がある人が事前に投票できる制度を、何といいますか、漢字で答えなさい。
- (C) 1890年に行われた日本で最初の選挙における選挙資格として正しいものを、下の(ア)～(エ)の中から1つ選び、記号で答えなさい。
- (ア) 満25才以上の男性
- (イ) 満25才以上の男女
- (ウ) 満25才以上の一定の税金を納めている男性
- (エ) 満25才以上の一定の税金を納めている男女

問(2) 下線部(b)について、政治についての国民の意見を何といいますか、漢字2文字で答えなさい。

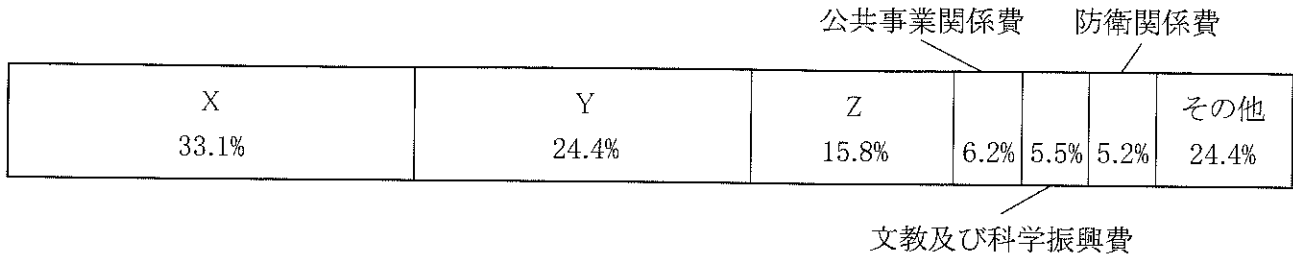
問(3) 下線部(c)の制度を何といいますか、漢字で答えなさい。

問(4) 下線部(d)について、次の問いに答えなさい。

(A) 2016年度の国家予算の歳入の総額を、下の(ア)～(エ)の中から1つ選び、記号で答えなさい。

(ア) 約67兆円 (イ) 約77兆円 (ウ) 約87兆円 (エ) 約97兆円

(B) 次のグラフは2016度の国家予算における歳出のうちわけを示したものです。グラフ中のX・Yとして正しいものを、下の(ア)～(ウ)の中から1つ選び、記号で答えなさい。



(ア) 国債費 (イ) 地方交付税交付金等 (ウ) 社会保障関係費

問(5) 下線部(e)に関して、次の問いに答えなさい。

(A) 階段に車いす用のスロープを付けるなど、物理的・心理的な障壁を取り除くことを何といいますか、答えなさい。

(B) (A)はどの基本的人権を保障することにつながりますか、正しいものを下の(ア)～(エ)の中から1つ選び、記号で答えなさい。

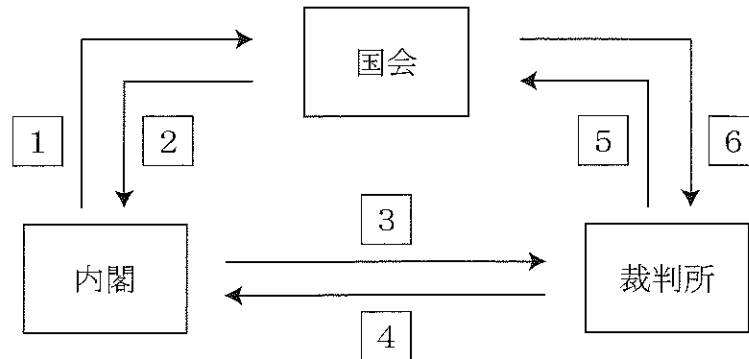
(ア) 自由権 (イ) 請求権 (ウ) 社会権 (エ) 平等権

(C) (A)を発展させて、あらゆる人にとって便利になるような工夫・設計を何といいますか、答えなさい。

問(6) 下線部(f)の略称として正しいものを、下の(ア)～(エ)の中から1つ選び、記号で答えなさい。

(ア) NGO (イ) PKO (ウ) NPO (エ) ODA

4 次の図を見て、あとの問いに答えなさい。



問(1) 図のように国の権力の乱用を防ぎ、国民の人権を守るしくみを何といいますか、漢字で答えなさい。

問(2) 下の(ア)～(オ)は、図の 1 ～ 6 のどの矢印にあてはまりますか、数字で答えなさい。

- (ア) 法律が憲法に違反していないか審査する。
- (イ) 内閣総理大臣を指名する。
- (ウ) 衆議院の解散を決める。
- (エ) 最高裁判所の長官を指名する。
- (オ) 裁判官の弾劾裁判をする。

問(3) 国会について、次の問いに答えなさい。

- (A) 日本国憲法第41条には、「国会は、( ① )の最高機関であつて、国の唯一の( ② )機関である。」と定めています。( ① )・( ② )にあてはまる語句を、漢字で答えなさい。
- (B) 衆議院議員選挙に立候補できるのは満何才以上ですか、答えなさい。

問(4) 内閣について、内閣総理大臣とすべての国务大臣が参加し、内閣の方針を決める会議を何といいますか、漢字で答えなさい。

問(5) 裁判所について、次の問いに答えなさい。

- (A) 裁判所では1つの事件について、原則的に何回まで裁判を受けられますか、答えなさい。
- (B) 2009年から始まった裁判員制度の説明として正しくないものを、下の(ア)～(エ)の中から1つ選び、記号で答えなさい。
  - (ア) くじによって選ばれた20才以上の国民が、裁判に参加する。
  - (イ) 裁判員は裁判官とともに話し合い、裁判を進めていく。
  - (ウ) 裁判員制度の対象になるのは、民事裁判である。
  - (エ) 裁判員裁判は、最初の裁判である第1審のみ行われる。